

Câmara Municipal de Uruguaiana
CIEE/RS – Centro de Integração Empresa – Escola do Rio Grande do Sul
Processo Seletivo Simplificado Estágio – **09 de Abril de 2017**
Nível Superior

Nome:

Curso:


Nº de Inscrição:

Assinatura do Candidato:

Informações importantes:

- Esta prova contém **40** questões objetivas e terá duração total de **3 horas**;
- Para cada questão existe somente uma alternativa correta;
- Com caneta de tinta azul ou preta, assinale na prova a alternativa que julgar correta e, após, transfira para o “Folha de Respostas”;
- Cuidado no preenchimento da Folha de Respostas, pois não serão substituídas em caso de rasura;
- Não serão computadas as questões não assinaladas na grade e as questões que contenham mais de uma resposta, emenda ou rasuras;
- Ao final você deverá entregar a prova e a Folha de Respostas, retendo a folha “Gabarito” para posterior conferência. A prova deverá estar identificada e preenchida.
- Folha de Respostas sem assinatura e sem os dados do candidato serão considerados nulos;
- Os monitores de sala não esclarecerão dúvidas sobre a prova durante a sua realização

BOA PROVA!



LÍNGUA PORTUGUESA

Em 115 anos, apenas 13 mulheres receberam o Nobel de Literatura

O Dia Internacional da Mulher chama a atenção _____ as desigualdades de gênero, violência e conquista de direitos. Costuma-se apontar a falta de equidade em áreas como a ciência ou em posições de poder, mas na literatura há também um número menor de mulheres que conseguem reconhecimento _____ suas obras. Em 115 anos, apenas 13 mulheres receberam o prêmio Nobel de Literatura.

No Prêmio Camões, que é concedido por Brasil e Portugal a escritores lusófonos, apenas seis mulheres foram homenageadas em 28 anos. No prêmio Jabuti, premiação literária mais importante da literatura brasileira, apenas 12 mulheres receberam o prêmio desde 1959 na categoria "Romance".

Apesar do pouco reconhecimento, muitas autoras escrevem _____ feminismo, seja do ponto de vista político, filosófico ou social, seja por meio de poemas ou colocando mulheres como personagens protagonistas em histórias que provocam reflexão. Dessa forma, ajudam a compreender o movimento que defende a igualdade de direitos entre homens e mulheres.

<http://www.correiodopovo.com.br/ArteAgenda/Variedades/...> - adaptado.

1) As lacunas no texto podem ser CORRETAMENTE preenchidas por:

- a) com - sobre - até o
 - b) para - por - sobre o
 - c) após - de - com o
 - d) até - desde - pelo
-

2) De acordo com o texto, analisar os itens abaixo:

- I - Na área da literatura, diferente de áreas como a ciência, as mulheres parecem ter recebido menos reconhecimento que os homens ao longo dos anos.
- II - Um dos objetivos de diversas autoras que abordam o feminismo é ajudar as pessoas a entender o movimento feminista como defensor dos direitos iguais.
- III - Assim como nas premiações mundiais, o contraste entre os números de prêmios dados a mulheres e a homens é grande nas premiações concedidas especificamente aos falantes de português.

Está(ão) CORRETO(S):

- a) Somente o item II.
 - b) Somente o item III.
 - c) Somente os itens I e II.
 - d) Somente os itens II e III.
-

3) A palavra "protagonistas", no terceiro parágrafo, pode ser substituída sem alteração de sentido por:

- a) Influentes.
 - b) Responsáveis.
 - c) Cativantes.
 - d) Principais.
-

4) Assinalar a alternativa CORRETA quanto à ortografia:

- a) Descendente.
 - b) Assessível.
 - c) Consenço.
 - d) Detensão.
-



5) Quanto ao uso da vírgula, analisar os itens abaixo:

- I - Logo que o sol se pôs, saiu em direção ao porto.
II - A ideia, porém era terminar antes do fim da audiência.

- a) Os itens I e II estão corretos.
b) Somente o item I está correto.
c) Somente o item II está correto.
d) Os itens I e II estão incorretos.
-

6) Numerar a 2ª coluna de acordo com a 1ª de forma a preencher as lacunas e, após, assinalar a alternativa que apresenta a sequência CORRETA:

- (1) porque
(2) porquê
(3) por que

- () Faltou a todos os testes _____ estava doente.
() Mas _____ não perguntou a opinião dele antes de tomar essa decisão?
() Refleti por dias, e finalmente entendi o _____.

- a) 2 - 1 - 3.
b) 1 - 3 - 2.
c) 1 - 2 - 3.
d) 3 - 1 - 2.
-

7) Assinalar a alternativa que pode substituir a conjunção sublinhada no trecho abaixo sem que haja alteração de sentido:

O relógio marcava meia-noite, mas ainda não estavam prontos.


- a) Contudo.
b) Porque.
c) Portanto.
d) E.
-

8) Assinalar a alternativa que apresenta o nome dado quando uma palavra é escrita e pronunciada da mesma forma, mas carrega dois significados diferentes:

- a) Sinonímia.
b) Paronímia.
c) Antonímia.
d) Polisssemia.
-

9) Assinalar a alternativa que apresenta a grafia CORRETA do plural:

- a) Correção - correções.
b) Hostil - hostiles.
c) Leal - leais.
d) Global - globals.
-



10) Considerando-se as normas de acentuação, assinalar a alternativa CORRETA:

- a) Jóia.
- b) Mêsês.
- c) Voo.
- d) Inutil.

INFORMÁTICA

Atenção! Para responder às questões de Informática, a menos que seja explicitamente informado o contrário, considerar que os programas mencionados encontram-se na versão Português-BR e, em sua configuração padrão de instalação, possuem licença de uso, o mouse está configurado para destros, um clique ou duplo clique correspondem ao botão esquerdo do mouse e teclar corresponde à operação de pressionar uma tecla e, rapidamente, liberá-la, acionando-a apenas uma vez. Dessa forma, as teclas de atalho, os menus, os submenus, as barras, os ícones e os demais itens que compõem os programas abordados nesta prova encontram-se na configuração padrão, conforme exposto anteriormente.

11) Assinalar a alternativa que preenche a lacuna abaixo CORRETAMENTE:

Em um computador, o _____ é classificado como a parte lógica cuja função é fornecer instruções para o hardware.

- a) spyware
- b) scanner
- c) sniffer
- d) software

12) O hardware é a parte que o usuário pode tocar do computador, ou seja, todos os componentes da sua estrutura física. Com base nisso, são exemplos de hardware:

- I - Placa-mãe.
- II - Sistema operacional.
- III - Teclado.

Está(ão) CORRETO(S):


- a) Somente o item III.
- b) Somente os itens I e III.
- c) Somente os itens I e II.
- d) Todos os itens.

13) No Windows 7 Professional, há uma barra longa horizontal na parte inferior da tela. Diferentemente da área de trabalho, que pode ficar obscurecida devido às várias janelas abertas, essa barra está quase sempre visível. Ela possui três seções principais, a saber:

- O botão Iniciar, que abre o menu Iniciar.
- A seção intermediária, que mostra quais programas e arquivos estão abertos e permite que o usuário alterne rapidamente entre eles.
- A área de notificação, que inclui um relógio e ícones que comunicam o status de determinados programas e das configurações do computador.

O exposto refere-se à barra de:

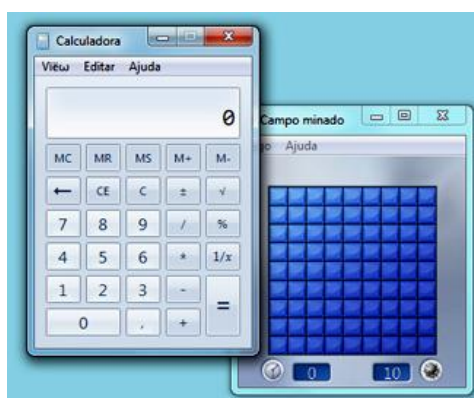
- a) Ferramentas.
- b) Títulos.
- c) Menus.
- d) Tarefas.



14) O painel direito do menu Iniciar do Windows 7 Professional contém links para partes do Windows que o usuário provavelmente usará com mais frequência. Com base nisso, as seguintes opções estão disponíveis no painel direito do menu Iniciar, EXCETO:

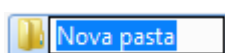
- a) Caixa de Pesquisa.
- b) Computador.
- c) Dispositivos e Impressoras.
- d) Ajuda e Suporte.

15) Um usuário está com dois programas abertos em sua área de trabalho no Windows 7 Professional, a Calculadora e o Campo minado. De acordo com o fragmento abaixo, a janela da Calculadora está na frente da janela do Campo minado. Isso indica que a Calculadora é a janela:



- a) Principal.
- b) Pop-up.
- c) Ativa.
- d) Anônima.

16) A imagem abaixo apresenta uma pasta existente em um computador que possui instalado o Windows 7 Professional. É CORRETO afirmar que essa pasta está pronta para ser:



- a) Excluída.
- b) Copiada.
- c) Renomeada.
- d) Aberta.

17) No Word 2007, o usuário pode escolher uma cor para o plano de fundo da página por meio da opção “Cor da Página”, representada pelo botão:

- a)
- b)
- c)
- d)



18) No Word 2007, é possível usar as seguintes opções para folhear um documento no modo de exibição Leitura em Tela Inteira:

- I - Clicar nas setas nos cantos inferiores das páginas.
- II - Pressionar Page Down e Page Up ou barra de espaços e Backspace no teclado.
- III - Clicar nas setas de navegação no centro superior da tela.

Estão CORRETOS:

- a) Somente os itens I e II.
- b) Somente os itens I e III.
- c) Somente os itens II e III.
- d) Todos os itens.

19) Ao inserir números em uma planilha do Excel 2007, talvez o usuário deseje somá-los. Um modo rápido de fazer isso é usar o:

- a) Preencher.
- b) AutoSoma.
- c) Classificar e Filtrar.
- d) Formato de Número de Contabilização.

20) Assinalar a alternativa que apresenta o sinal que informa ao Excel 2007 que a célula conterá uma fórmula:

- a) =
- b) :
- c) *
- d) +

MATEMÁTICA

21) Em determinado estoque de vestuário, há 6 camisas modelo A, 12 modelo B e 16 modelo C. Com base nessas informações, analisar os itens abaixo:

- I - A razão entre a quantidade de camisas do modelo A e a quantidade de camisas do modelo B é igual a $1/2$.
- II - A razão entre a quantidade de camisas do modelo C e a quantidade de camisas do modelo B é igual a $4/3$.

- a) Os itens I e II estão corretos.
- b) Somente o item I está correto.
- c) Somente o item II está correto.
- d) Os itens I e II estão incorretos.

22) Os professores de matemática Carlos e Fernando deverão dividir o prêmio de R\$ 5.000,00 de forma diretamente proporcional à quantidade de alunos que cada um tem por turma. Sabendo-se que na turma de Carlos há 18 alunos e na turma de Fernando 22, é CORRETO afirmar que:

- a) Carlos deverá receber R\$ 2.400,00.
 - b) Fernando deverá receber R\$ 500,00 a mais do que Carlos.
 - c) Fernando deverá receber R\$ 2.800,00.
 - d) Carlos deverá receber R\$ 2.200,00 e Fernando R\$ 2.850,00.
-



23) Certa agência bancária no horário de atendimento das 10 às 15 horas atende 130 clientes. Considerando-se a mesma proporção, e que em determinado dia essa agência deverá atender das 8 às 15 horas, quantos clientes ela deverá atender ao todo nesse dia?

- a) 175
 - b) 182
 - c) 196
 - d) 204
-

24) Em certo cofre há 128 moedas. Destas, R\$ 8,00 são de moedas de 25 centavos. Considerando-se a quantidade total de moedas do cofre, é CORRETO afirmar que a quantidade de moedas de 25 centavos é equivalente a:

- a) 15%
 - b) 20%
 - c) 25%
 - d) 30%
-

25) Por quantos meses deverá ser aplicado o capital de R\$ 6.000,00 à taxa de juros simples de 5% ao mês para se obter um montante de R\$ 13.800,00?

- a) 18
 - b) 26
 - c) 32
 - d) 48
-

26) Ao se realizar o pagamento de certo boleto bancário no valor de R\$ 150,00, dois dias após seu vencimento, foram pagos juros compostos de 4% ao dia. Com base nisso, qual foi o valor pago referente aos juros?

- a) R\$ 10,85
 - b) R\$ 11,36
 - c) R\$ 12,24
 - d) R\$ 13,75
-

27) O peso de cada questão de matemática em certo processo seletivo foi representado pela equação $3x + 16 = 31$. Sabendo-se que a nota é composta pela multiplicação da quantidade de acertos pelo peso de cada questão, e que a letra x da equação representa o peso de cada questão da disciplina de matemática, qual é o peso de cada questão de matemática nesse processo seletivo?

- a) 3
 - b) 4
 - c) 5
 - d) 6
-

28) A quantidade de vagas para estágio foi representada pela equação $-x^2 + 6x - 5 = 0$, e as raízes dessa equação representam a quantidade de vagas para os setores de recepção e produção. Considerando-se que há mais vagas no setor de produção do que na recepção, assinalar a alternativa CORRETA:

- a) Há 6 vagas para o setor de produção.
 - b) Há 8 vagas para o setor de recepção.
 - c) Há 9 vagas para o setor de produção.
 - d) Há 1 vaga para o setor de recepção.
-



29) Para determinada receita de bolo, o confeitiro abriu um pacote de 1.000g de açúcar e utilizou $\frac{3}{4}$ para fazer a massa e $\frac{1}{5}$ para fazer a cobertura do bolo. Com base nisso, é CORRETO afirmar que:

- a) Foram utilizados 950g de açúcar para fazer toda a receita.
- b) Foram utilizados 800g de açúcar para fazer a massa.
- c) Foram utilizados 400g de açúcar para fazer a cobertura.
- d) Foi utilizado todo o pacote de açúcar para fazer a receita.

30) O valor unitário de cada passagem municipal em certa capital é de R\$ 3,00. Supondo-se que certo funcionário utilize um ônibus para ir ao trabalho e um para voltar para casa, e que no mês de março ele deverá trabalhar 22 dias, quantos reais esse funcionário gastará com passagens no mês de março?

- a) R\$ 124,00
- b) R\$ 127,00
- c) R\$ 132,00
- d) R\$ 138,00

CONHECIMENTOS GERAIS

31) “Presidente do Senado diz que reformas farão o Brasil crescer.”

<http://exame.abril.com.br/brasil...> - adaptado.

Assinalar a alternativa que apresenta o atual Presidente do Senado:

- a) Renan Calheiros.
- b) Gilmar Mendes.
- c) Eunício Oliveira.
- d) Rodrigo Maia.

32) “Estado do Rio confirma primeira morte por febre amarela. Diante dos resultados, a secretaria informou que vai antecipar a vacinação para 24 municípios estratégicos.”

<http://exame.abril.com.br/brasil...> - adaptado.

A febre amarela é transmitida por:

- a) Aves.
- b) Mosquitos.
- c) Primatas.
- d) Porcos.

33) “Rodrigo Janot pediu que o Supremo Tribunal Federal abra 83 inquéritos contra políticos delatados pelos funcionários da Odebrecht na investigação da Lava Jato.”

<http://brasil.elpais.com/brasil/2017/03/14/politica...> - adaptado.

Rodrigo Janot é o:

- a) Procurador-Geral da República.
 - b) Ministro da Segurança Pública.
 - c) Assessor da Casa Civil.
 - d) Presidente da Câmara dos Deputados.
-



34) “O secretário-geral da Organização de Estados Americanos (OEA), Luis Almagro, endureceu o discurso sobre a Venezuela. Depois de meses de fracassos diplomáticos com o Governo de Nicolás Maduro e a piora da situação no país, Almagro atualizou seu relatório sobre a Venezuela, em que solicita a expulsão do país da OEA se não forem celebradas ‘eleições livres, justas e transparentes’ de maneira imediata. Uma possível expulsão cabe ao Conselho Permanente da Organização, cuja presidência atualmente é exercida por Belize.”

<http://brasil.elpais.com/brasil/2017/03/14/internacional...> - adaptado.

A Venezuela é um país que faz parte da:

- a) América do Norte.
- b) Europa.
- c) América do Sul.
- d) América Central.

35) “A tribo que quer barrar o muro de Trump: Os tohono o’odham lutam para impedir que a barreira fronteira atravessasse suas terras. Eles chegaram antes que todos e não se darão tão facilmente por vencidos. Uma pequena comunidade indígena do deserto de Sonora abriu uma nova frente contra o muro que Donald Trump pretende construir na fronteira dos Estados Unidos com o país.”

<http://brasil.elpais.com/brasil/2017...> - adaptado.

Considerando-se a notícia acima, é CORRETO afirmar que os Estados Unidos querem construir um muro na fronteira com o:

- a) México.
- b) Canadá.
- c) Panamá.
- d) Caribe.

36) “BNDES financiará projetos de energia renovável na Amazônia.”

<http://exame.abril.com.br/economia...> - adaptado.

Assinalar a alternativa que NÃO apresenta uma fonte de energia renovável:

- a) Sol.
- b) Vento.
- c) Carvão mineral.
- d) Marés.

37) “O Presidente Michel Temer sancionou a reforma do Ensino Médio. O texto, que foi aprovado pelo Senado, foi inicialmente colocado em vigor como Medida Provisória (MP). O texto final manteve todos os eixos do original.”

<http://g1.globo.com/educacao/noticia...> - adaptado.

Em relação à reforma do Ensino Médio, marcar C para as afirmativas Certas, E para as Erradas e, após, assinalar a alternativa que apresenta a sequência CORRETA:

- () Com a reforma, somente as disciplinas de português e matemática são obrigatórias.
- () O Ensino Médio passará a ser oferecido pela rede pública e privada somente no turno da noite, a partir de 2018.

- a) C - C.
- b) E - C.
- c) C - E.
- d) E - E.



38) O Presidente da Colômbia, Juan Manuel Santos, recebeu recentemente o Prêmio Nobel:

- a) De Economia.
- b) Da Paz.
- c) De Medicina.
- d) De Ciência e Tecnologia.

39) “Com o título ‘Operação London Bridge: o plano secreto para os dias seguintes à morte da Rainha (Elizabeth II)’, o jornal, ‘The Guardian’, afirma que a resposta do país ao falecimento da monarca, de 90 anos, será ‘monumental’ em comparação ao da princesa Diana, que morreu em um acidente de trânsito em 1997, em Paris.”

<http://exame.abril.com.br/mundo...> - adaptado.

Elizabeth II é a Rainha do(a):

- a) França.
- b) Espanha.
- c) Paquistão.
- d) Reino Unido.

40) Assinalar a alternativa que preenche a lacuna da notícia abaixo CORRETAMENTE:

“O especialista da ONU Mulheres Julien Pellaux alertou que, se nada for feito, a paridade salarial entre homens e mulheres vai levar 170 anos para ser alcançada. Em entrevista à ONU News, em Nova York, no dia 08 de março, Dia _____, Pellaux disse que as Nações Unidas estão ‘dando início a várias campanhas para promover esse assunto, que na verdade é um assunto político.’”

<http://guiadoestudante.abril.com.br/blog/atualidades...> - adaptado.

- a) Internacional do Feminismo
- b) Internacional da Mulher
- c) Nacional do Feminismo
- d) Nacional da Mulher